



5F



〇〇〇kg 〇〇石

重さは?  kg

これはなに?  石

### 重力くらべ

1kgのおもりを火星と太陽にはこんだとしたら、重くなるのはどっち?

- 1. 火星
- 2. 太陽



### 太陽系惑星

太陽系惑星の中でもっとも大きいのは?

ヒント

シマ模様の惑星があやしいぞ!

4F

### パラボラアンテナとピンポン玉実験

ピンポン玉をまっすぐ落とすと、はね返ってどこに当たるかな?



### サイクロイド滑り台

どのレールがもっとも早くボールが落ちるかな?



ヒント

直線が早いとは限らないよ!



## ワークシートにチャレンジしてみよう!

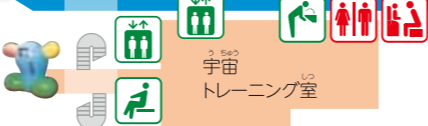
5F



4F



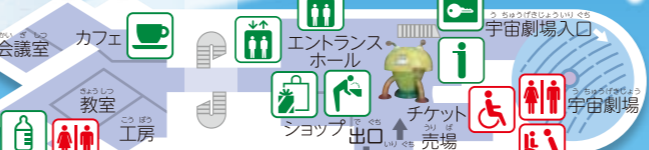
3F



2F



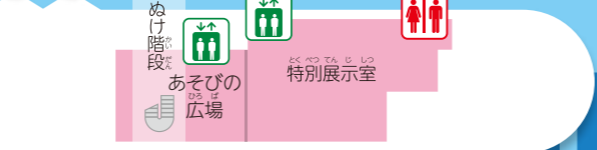
1F



B1



B2



- トイレ
- 多目的トイレ
- ベビーシート
- ベビーキープ
- インフォメーション
- 自動販売機
- コインロッカー
- 休憩コーナー
- 授乳室
- 冷水機
- エレベーター
- カフェ
- ショップ

2F



### 放電ショー

ここでは何がみられるのかな? ひとつ選んで○をつけよう。

- 1. 流れ星
- 2. オーロラ
- 3. かみなり



### プラズマチューブ

下の絵のようにさわるとどうなるかな?



写真とはちがうよ。絵の中に書いてみよう!

ヒント

こうだったのが...



B2

### ボールマシン

1つのボールをおいかけてみよう。ボールが通るコースがいくつあるか、かぞえてみよう!

